




Chrono Math



Relations numériques de base Les compléments à 10



DÉPART	8 + ? = 10	3 + ? = 10	6 + ? = 10	7 + ? = 10	0 + ? = 10
---------------	-------------------	-------------------	-------------------	-------------------	-------------------

4 + ? = 10



1 + ? = 10

5 + ? = 10

2 + ? = 10


7 + ? = 10

0 + ? = 10

6 + ? = 10

4 + ? = 10

3 + ? = 10



9 + ? = 10



10 + ? = 10

1 + ? = 10

9 + ? = 10

8 + ? = 10

5 + ? = 10

10 + ? = 10

2 + ? = 10



MES RECORDS




Chronométrer le temps mis pour arriver à la fin de la piste de jeu.

Date :	Date :	Date :	Date :	Date :
Temps :	Temps :	Temps :	Temps :	Temps :
Date :	Date :	Date :	Date :	Date :
Temps :	Temps :	Temps :	Temps :	Temps :



Chrono Math



Relations numériques de base

les moitiés

DIS LA MOITIÉ DU NOMBRE INSCRIT DANS LA CASE.

DÉPART	100	10	30	200	50	
					80	
			20	1000	60	
			60			
			50	600	40	100
						60
						10
	30	400	100	30	50	6

MES RECORDS				
<i>Chronométrer le temps mis pour arriver à la fin de la piste de jeu.</i>				
Date :	Date :	Date :	Date :	Date :
Temps :	Temps :	Temps :	Temps :	Temps :
Date :	Date :	Date :	Date :	Date :
Temps :	Temps :	Temps :	Temps :	Temps :

